

## Problema

Lucia ha apparecchiato la tavola e ha messo 4 cucchiaini, 4 coltelli e 4 forchette.

Quante posate ha dovuto usare in tutto?

## Problema

Il papà ha comprato prima 4 pesciolini gialli e poi altri 6 pesciolini rossi.

Quanti pesciolini ha portato a casa in tutto?

## Problema

In un prato ci sono 5 mucche e 7 cavalli che pascolano tranquillamente.

Quanti animali ci sono in tutto?

## Problema

Per il mio compleanno mi hanno regalato 12 cioccolatini ed io ne ho mangiati 7.

Quanti cioccolatini mi sono rimasti?

## Problema

Avevo 11 figurine dei calciatori, ma ne ho regalate 5 al mio migliore amico.

Quante figurine mi sono rimaste?

## Problema

Sul filo della luce conto 9 uccellini. Un rumore improvviso ne fa volare via 6.

Quante uccellini rimangono sul filo?

### Problema

Da un cestino, in cui c'erano 12 uova, due topolini ne portano via 4. Quante uova restano nel cestino?

### Problema

Avevo 14 coniglietti, ma una volpe me ne ha portati via 5. Quanti coniglietti mi sono rimasti?

### Problema

In un vassoio ci sono 6 caramelle, 3 biscotti e 5 cioccolatini. Quanti dolci ci sono in tutto?

### Problema

In un bel prato ho raccolto 10 margherite e 4 tulipani. Quanti fiori ho raccolto in tutto?

### Problema

Sui rami di una quercia ci sono 13 uccellini. Se ne volano via 8, quanti uccellini rimangono?


### Problema

Per apparecchiare la tavola ho bisogno di 6 piatti piani e 6 piatti fondi. Quanti piatti dovrò usare in tutto?

## PROBLEMI


Risolvi questi quesiti sugli animali:

1) Allo zoo, nel reparto degli uccelli c'erano 7  .


Si sono aggiunti in seguito 5  .

Quanti uccelli ci sono ora in tutto?


2) Nell'acquario di Rimini c'erano 12  . Purtroppo


5  se ne sono dovuti andare, perché sono stati venduti. Quanti ne sono rimasti?

3) Nella savana questa mattina c'erano 11  maschi.

2  femmina arrivarono nel pomeriggio assieme a

2  . Quanti elefanti c'erano ora in tutto?

4) Nella foresta 9  si stavano dondolando sui rami di un albero. Ad un certo punto, attratte dal rumore, vi si

aggiunsero altre 5  . Quante scimmiette c'erano ora?

### Problema

Nella cesta dei giocattoli ci sono 20 pupazzetti di stoffa, ma 9 non sono di Gigi. Quanti sono i giocattoli di Gigi?

### Problema

Lulù ha appeso al soffitto un insieme di 19 stelline, 7 delle quali rosse. Quante sono le stelle non rosse?

### Problema

Marco fa la raccolta di figurine. 3 ne ha ricevute dal nonno, 5 le ha comprate dal giornalaio e 10 le aveva già nell'album. Quante figurine ha in tutto?

### Problema

Sergio aveva un bel vaso con 20 pesciolini, ma il suo gatto ha infilato la zampa e ne ha tirato fuori alcuni per mangiarseli. Ne ha lasciati solo 9 quanti pesci ha mangiato il gatto?

### Problema

Nella mia cameretta avevo 18 quaderni nuovi. Se ne ho consumati 15, quanti quaderni non ho usato?